


Name: _____




1. Rechne aus.


___ · ___ = ___




___ · ___ = ___




___ · ___ = ___




___ · ___ = ___



___ · ___ = ___



___ · ___ = ___



3. Die Ergebnisse von Malaufgaben mit gleichen Zahlen heißen **Quadratzahlen**.
Warum?




Name: _____




1. Rechne aus.


___ · ___ = ___



___ · ___ = ___



___ · ___ = ___



2. Was fällt dir auf? Markiere mit Forschermitteln.



3. Die Ergebnisse von Malaufgaben mit gleichen Zahlen heißen **Quadratzahlen**.

Warum?




Name: _____




1. Rechne aus.


___ · ___ = ___



___ · ___ = ___



___ · ___ = ___



2. Was fällt dir auf? Markiere mit Forschermitteln.



3. Die Ergebnisse von Malaufgaben mit gleichen Zahlen heißen **Quadratzahlen**.

Warum?