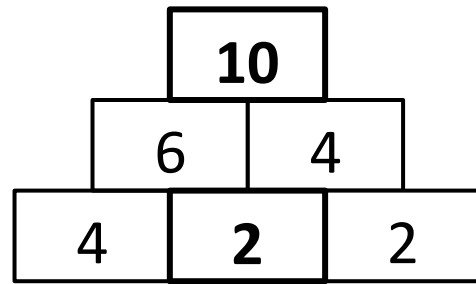
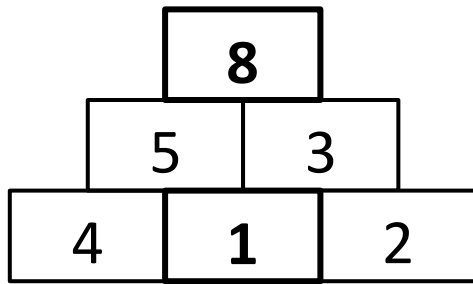
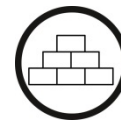


Name: _____



Wenn sich der **Mittelstein** um 1 erhöht, erhöht sich der **Deckstein** um 2.

Warum ist das so? **Begründe.**



Zeige mit Plättchen.

