





Name: \_\_\_\_\_

# Rechnen am Rechenstrich

1. Finde verschiedene Wege die Minusaufgabe  $39 - 14$  zu rechnen.  
Wie gehst du vor? Zeige mit **Forschermitteln**.



- ★ **Beschreibe** den Rechenweg, den du am besten findest.



---

---

---

---

Mein Rechenweg heißt:

---