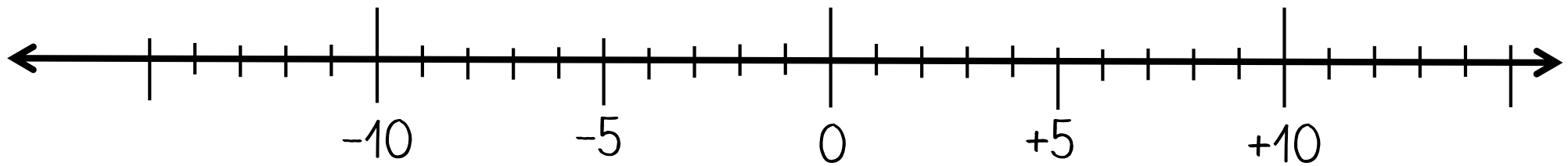


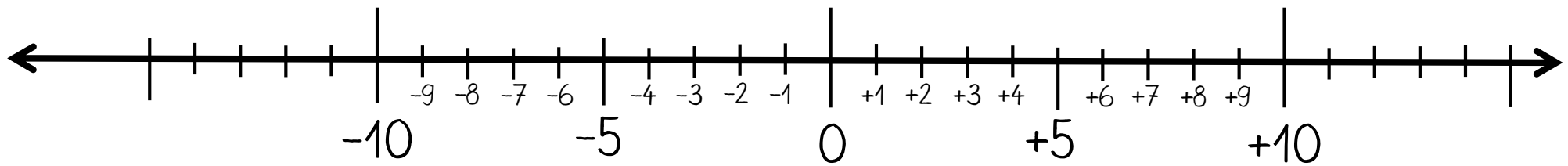


## Plus-Minus-Spiel

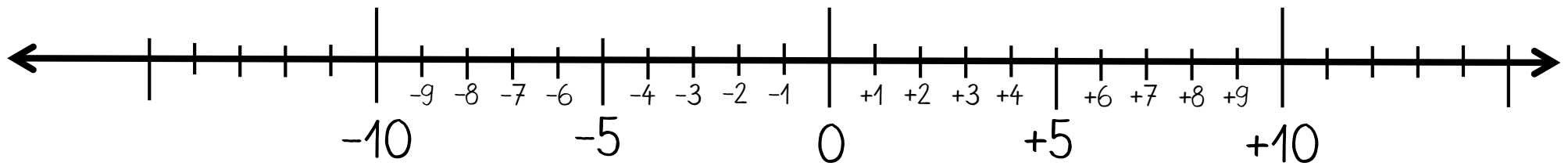





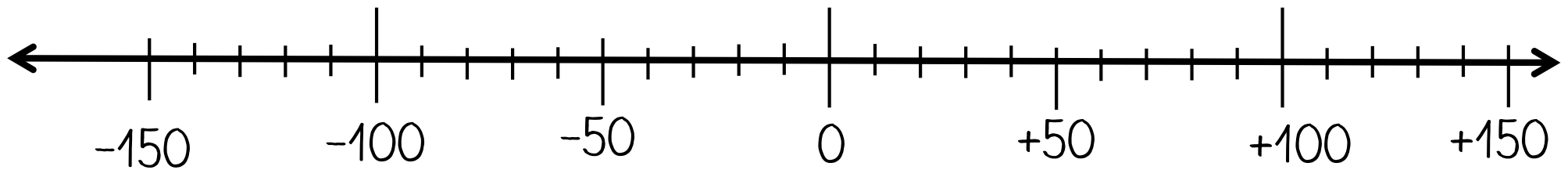
## Plus-Minus-Spiel



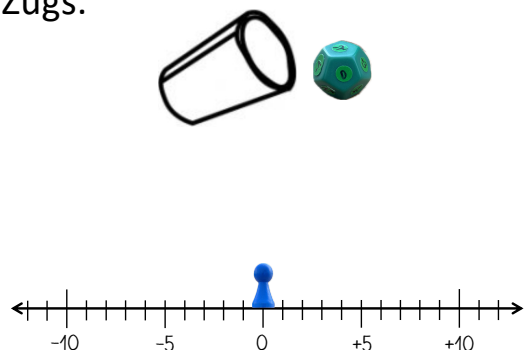
## Plus-Minus-Spiel



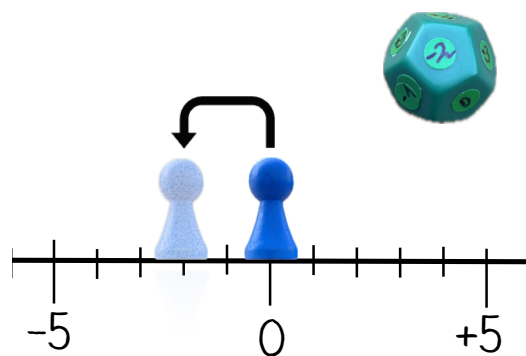
## Plus-Minus-Spiel



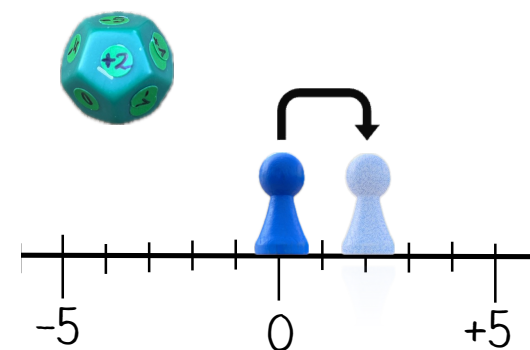
Startet bei 0. Dann würfelt ihr die Länge und die Richtung des Zugs.



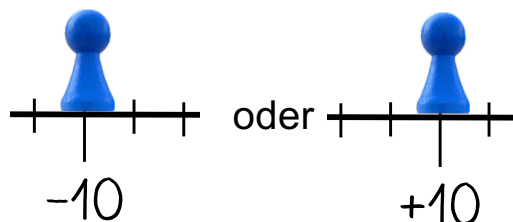
Bei einem negativen Vorzeichen (MINUS) zieht in Richtung -10.



Bei einem positiven Vorzeichen (PLUS) zieht in Richtung +10.



Gewonnen habt ihr, wenn ihr entweder die kleinste Zahl -10 oder die größte Zahl +10 erreicht habt.



Notiert direkt jeden Zug.

Start (mit Vorzeichen)	Schritt (mit Vorzeichen)	Ziel (mit Vorzeichen)
0	-2	-2

ODER

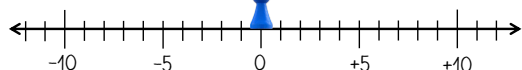
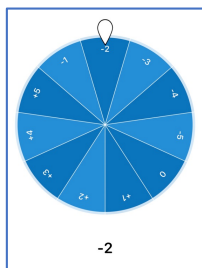
Start (mit Vorzeichen)	Schritt (mit Vorzeichen)	Ziel (mit Vorzeichen)
0	+2	+2

Zählt zum Schluss noch die Anzahl der Züge, die ihr gebraucht habt.

Start (mit Vorzeichen)	Schritt (mit Vorzeichen)	Ziel (mit Vorzeichen)
0	-2	-2
-2	+5	+3
+3	-1	+2
+2	+4	+6
+6	-1	+5
+5	+5	+10

→ 1. Zug  
→ 2. Zug  
→ 3. Zug  
→ 4. Zug  
→ 5. Zug  
→ 6. Zug

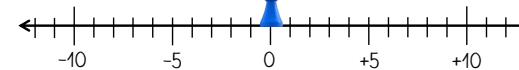
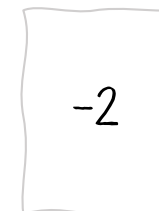
Startet bei 0. Dann ermittelt ihr die Anzahl und die Richtung des Zugs.




Startet bei 0. Dann würfelt ihr für die Anzahl und die Richtung des Zugs.



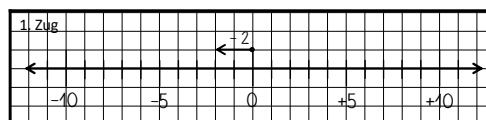
Startet bei 0. Dann zieht ihr die Anzahl und die Richtung des Zugs.



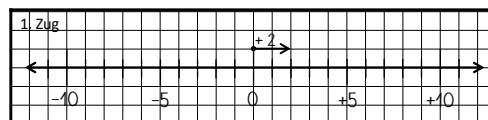
Startet bei 0. Dann zieht ihr die Anzahl und die Richtung des Zugs.



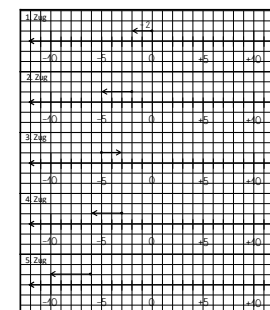
Zeichnet direkt jeden Zug ein.



ODER

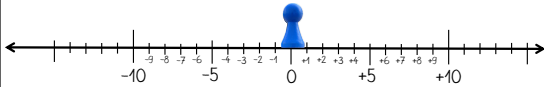


Zählt zum Schluss noch die Anzahl der Züge, die ihr gebraucht habt.

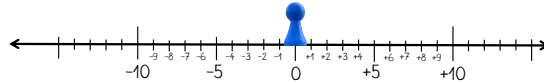


- 1. Zug
- 2. Zug
- 3. Zug
- 4. Zug
- 5. Zug

Startet bei 0. Dann würfelt ihr die Anzahl und die Richtung des Zugs.



Startet bei 0. Dann dreht ihr für die Anzahl und die Richtung des Zugs.



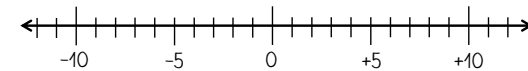

MINUS

—



PLUS

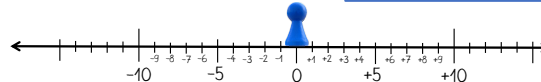
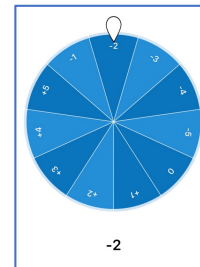
+



Startet bei 0. Dann zieht ihr die Anzahl und die Richtung des Zugs.



Startet bei 0. Dann ermittelt ihr die Anzahl und die Richtung des Zugs.



Namen:		
Start (mit Vorzeichen)	Schritt (mit Vorzeichen)	Ziel (mit Vorzeichen)

Namen:		
Start (mit Vorzeichen)	Schritt (mit Vorzeichen)	Ziel (mit Vorzeichen)

Namen:		
Start (mit Vorzeichen)	Schritt (mit Vorzeichen)	Ziel (mit Vorzeichen)



# Notationskarten – Plus-Minus-Spiel – klein

Namen:		
Start (mit Vorzeichen)	Schritt (mit Vorzeichen)	Ziel (mit Vorzeichen)

Namen:		
Start (mit Vorzeichen)	Schritt (mit Vorzeichen)	Ziel (mit Vorzeichen)

Namen:		
Start (mit Vorzeichen)	Schritt (mit Vorzeichen)	Ziel (mit Vorzeichen)

Namen:		
Start (mit Vorzeichen)	Schritt (mit Vorzeichen)	Ziel (mit Vorzeichen)

Namen:		
Start (mit Vorzeichen)	Schritt (mit Vorzeichen)	Ziel (mit Vorzeichen)

Namen:		
Start (mit Vorzeichen)	Schritt (mit Vorzeichen)	Ziel (mit Vorzeichen)

Namen:		
Start (mit Vorzeichen)	Schritt (mit Vorzeichen)	Ziel (mit Vorzeichen)

Namen:		
Start (mit Vorzeichen)	Schritt (mit Vorzeichen)	Ziel (mit Vorzeichen)

Namen:		
Start (mit Vorzeichen)	Schritt (mit Vorzeichen)	Ziel (mit Vorzeichen)

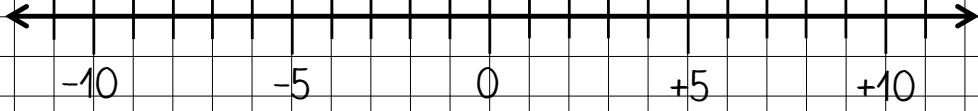
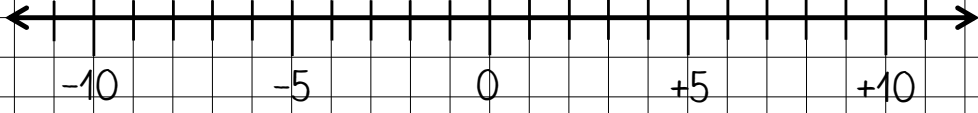
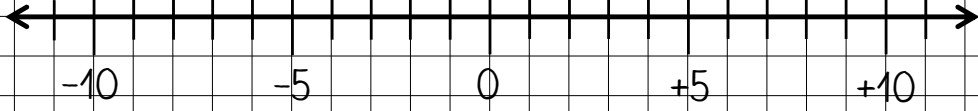
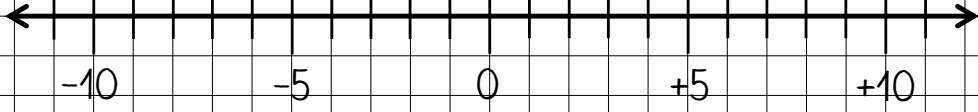
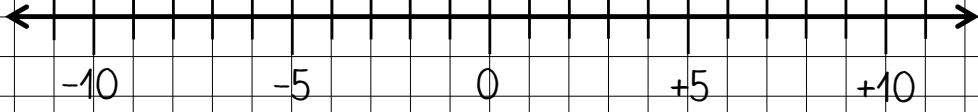
Namen:		
Start (mit Vorzeichen)	Schritt (mit Vorzeichen)	Ziel (mit Vorzeichen)

Namen:		
Start (mit Vorzeichen)	Schritt (mit Vorzeichen)	Ziel (mit Vorzeichen)

Namen:		
Start (mit Vorzeichen)	Schritt (mit Vorzeichen)	Ziel (mit Vorzeichen)

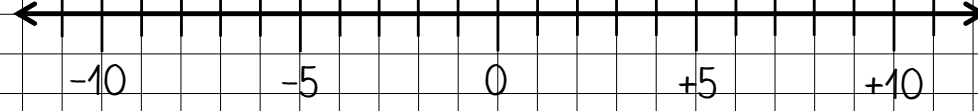
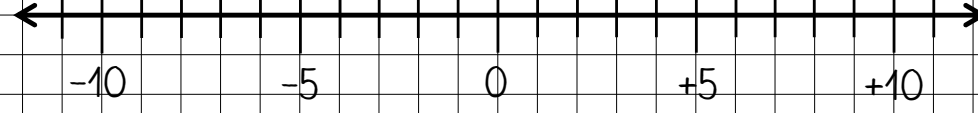
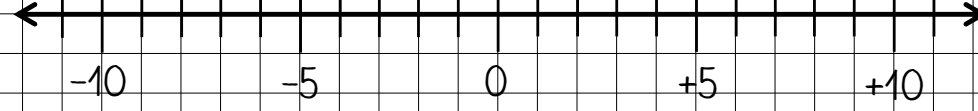
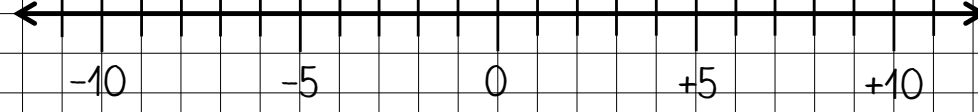
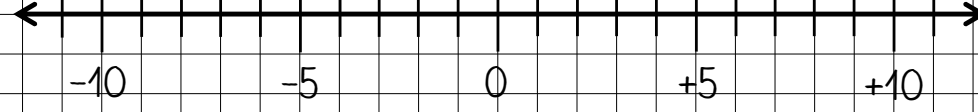
# Notationskarte – „Pfeile an der Zahlengeraden“ - Basis

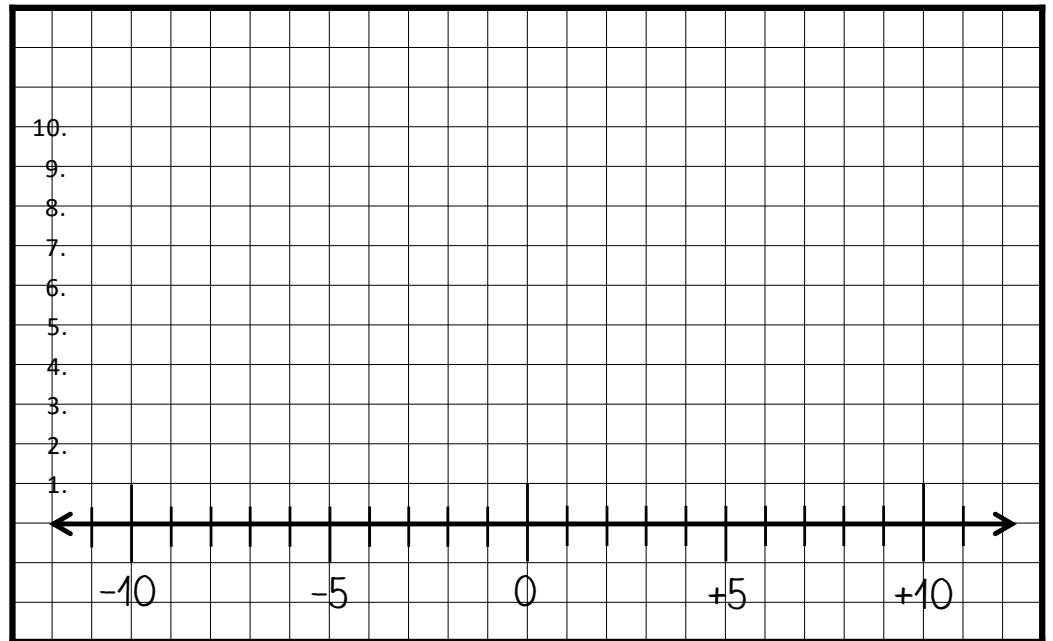
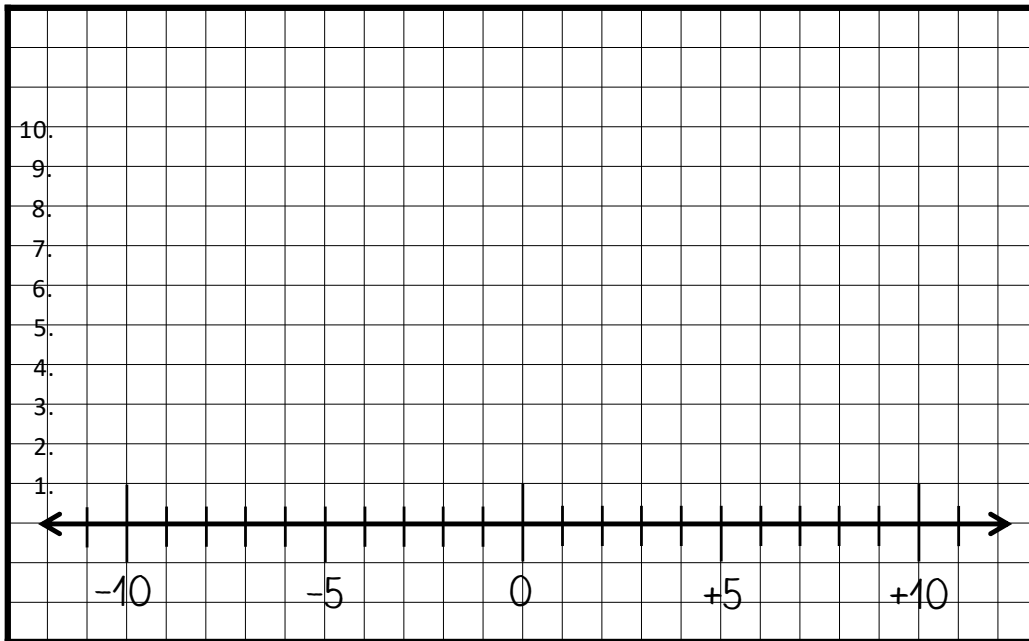
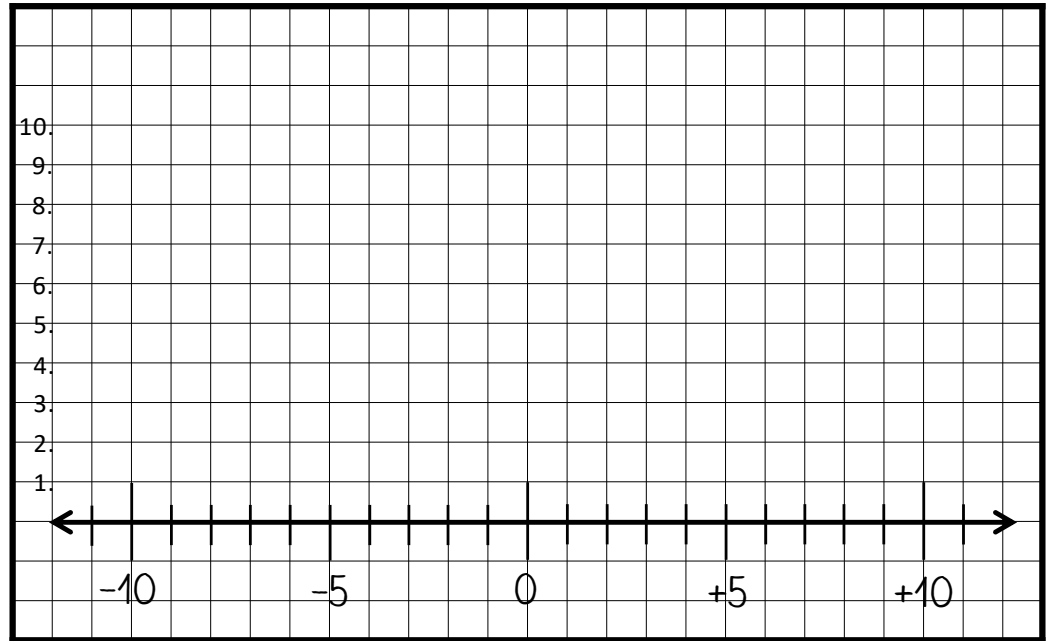
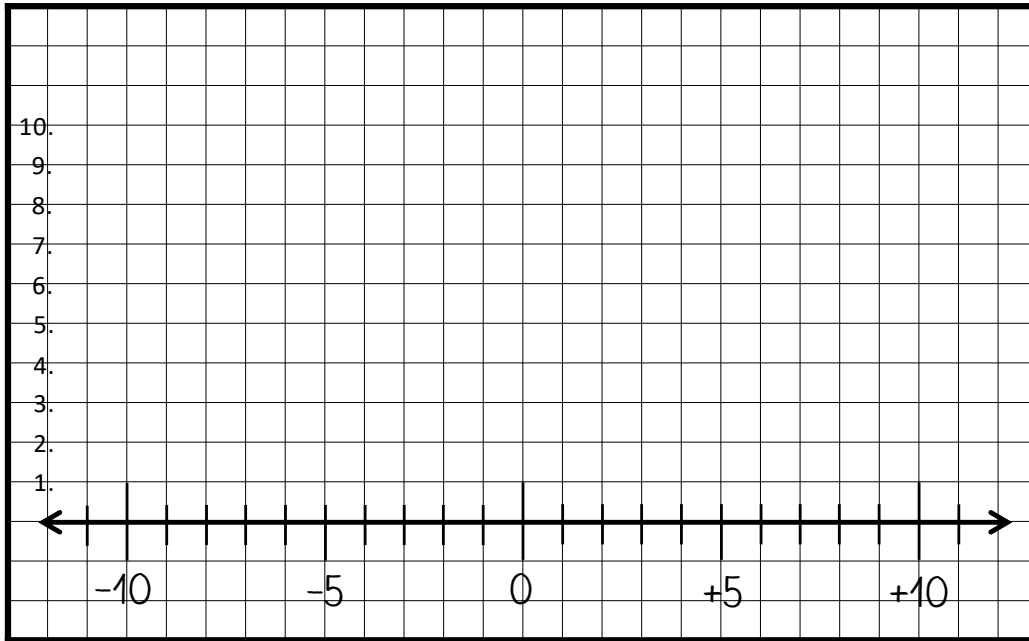
Name: \_\_\_\_\_ Datum: \_\_\_\_\_

1. Zug	
2. Zug	
3. Zug	
4. Zug	
5. Zug	

# Notationskarte – „Pfeile an der Zahlengeraden“ - Basis

Name: \_\_\_\_\_ Datum: \_\_\_\_\_

__ . Zug	
__ . Zug	
__ . Zug	
__ . Zug	
__ . Zug	



Auf welcher Zahl landet die Spielfigur? Notiert die passende Zielzahl.

- Malt Aufgaben, die besonders **leicht** zu lösen waren **grün** an und die, die besonders **schwer** waren in **rot**.

Start (mit Vorzeichen)	Schritt (mit Vorzeichen)	Ziel (mit Vorzeichen)
+ 7	- 3	

Start (mit Vorzeichen)	Schritt (mit Vorzeichen)	Ziel (mit Vorzeichen)
- 4	- 5	

Start (mit Vorzeichen)	Schritt (mit Vorzeichen)	Ziel (mit Vorzeichen)
+ 9	- 4	

Start (mit Vorzeichen)	Schritt (mit Vorzeichen)	Ziel (mit Vorzeichen)
+ 2	+ 4	

Start (mit Vorzeichen)	Schritt (mit Vorzeichen)	Ziel (mit Vorzeichen)
- 3	+ 1	

Start (mit Vorzeichen)	Schritt (mit Vorzeichen)	Ziel (mit Vorzeichen)
- 6	- 4	

Start (mit Vorzeichen)	Schritt (mit Vorzeichen)	Ziel (mit Vorzeichen)
- 1	+ 5	

Start (mit Vorzeichen)	Schritt (mit Vorzeichen)	Ziel (mit Vorzeichen)
+ 4	+ 5	

Auf welcher Zahl landet die Spielfigur? Notiert die passende Zielzahl.

- Malt Aufgaben, die besonders **leicht** zu lösen waren **grün** an und die, die besonders **schwer** waren in **rot**.

Start (mit Vorzeichen)	Schritt (mit Vorzeichen)	Ziel (mit Vorzeichen)
+ 5	- 2	

Start (mit Vorzeichen)	Schritt (mit Vorzeichen)	Ziel (mit Vorzeichen)
- 4	- 1	

Start (mit Vorzeichen)	Schritt (mit Vorzeichen)	Ziel (mit Vorzeichen)
+ 5	0	

Start (mit Vorzeichen)	Schritt (mit Vorzeichen)	Ziel (mit Vorzeichen)
+ 2	+ 2	

Start (mit Vorzeichen)	Schritt (mit Vorzeichen)	Ziel (mit Vorzeichen)
- 3	+ 1	

Start (mit Vorzeichen)	Schritt (mit Vorzeichen)	Ziel (mit Vorzeichen)
- 5	0	

Start (mit Vorzeichen)	Schritt (mit Vorzeichen)	Ziel (mit Vorzeichen)
- 1	+ 2	

Start (mit Vorzeichen)	Schritt (mit Vorzeichen)	Ziel (mit Vorzeichen)
+ 1	- 2	

Auf welcher Zahl landet die Spielfigur? Notiert die passende Zielzahl. Wie seid ihr vorgegangen?

Start (mit Vorzeichen)	Schritt (mit Vorzeichen)	Ziel (mit Vorzeichen)
0	+ 3	?
?	- 4	
Wie seid ihr vorgegangen? Schreibt auf:		

Start (mit Vorzeichen)	Schritt (mit Vorzeichen)	Ziel (mit Vorzeichen)
+ 8	- 3	?
?	+ 1	
Wie seid ihr vorgegangen? Schreibt auf:		

Start (mit Vorzeichen)	Schritt (mit Vorzeichen)	Ziel (mit Vorzeichen)
- 2	- 2	?
?	- 3	
Wie seid ihr vorgegangen? Schreibt auf:		

Start (mit Vorzeichen)	Schritt (mit Vorzeichen)	Ziel (mit Vorzeichen)
- 7	- 2	?
?	+ 2	
Wie seid ihr vorgegangen? Schreibt auf:		

Auf welcher Zahl landet die Spielfigur? Notiert die passende Zielzahl. Wie seid ihr vorgegangen?

Start (mit Vorzeichen)	Schritt (mit Vorzeichen)	Ziel (mit Vorzeichen)
0	- 5	?
?	- 1	
Wie seid ihr vorgegangen? Schreibt auf:		

Start (mit Vorzeichen)	Schritt (mit Vorzeichen)	Ziel (mit Vorzeichen)
+ 8	- 2	?
?	+ 5	
Wie seid ihr vorgegangen? Schreibt auf:		

Start (mit Vorzeichen)	Schritt (mit Vorzeichen)	Ziel (mit Vorzeichen)
- 2	+ 4	?
?	- 3	
Wie seid ihr vorgegangen? Schreibt auf:		

Start (mit Vorzeichen)	Schritt (mit Vorzeichen)	Ziel (mit Vorzeichen)
- 7	+ 5	?
?	+ 6	
Wie seid ihr vorgegangen? Schreibt auf:		