







Wahrscheinlichkeiten

- Material:**
- 1 Farbwürfel
 - Stift und Papier oder Heft



Zeichne eine Strichliste:

					
rot	grün	blau	gelb	lila	orange

1. Würfel 50-mal mit dem Farbwürfel.
Markiere jeden Wurf mit einem Strich in der Strichliste.
2. Schau dir deine Liste genau an. **Was fällt dir auf?**
Markiere mit Forschermitteln.









Wahrscheinlichkeiten

- Material:**
- 1 Würfel
 - Stift und Papier oder Heft



Zeichne eine Strichliste:

					
eins	zwei	drei	vier	fünf	sechs

1. Würfel 50-mal mit dem Würfel.
Markiere jeden Wurf mit einem Strich in der Strichliste.
2. Schau dir deine Liste genau an. **Was fällt dir auf?**
Markiere mit Forschermitteln.








Wahrscheinlichkeiten

Material: • Stift und Papier oder Heft

Zeichne eine Strichliste:

					
rot	grün	blau	gelb	lila	orange

1. Stell dir vor, du hast 50-mal mit einem Farbwürfel gewürfelt.
Wie könnte die Strichliste nach den 50 Würfeln aussehen? Zeichne ein Beispiel.







* Warum hast du die Striche so verteilt? **Begründe.**



Wahrscheinlichkeiten

Material: • Stift und Papier oder Heft

Zeichne eine Strichliste:

					
eins	zwei	drei	vier	fünf	sechs

1. Stell dir vor, du hast 50-mal mit einem Würfel gewürfelt.
Wie könnte die Strichliste nach den 50 Würfeln aussehen? Zeichne ein Beispiel.

* Warum hast du die Striche so verteilt? **Begründe.**





Wahrscheinlichkeiten

- Material:**
- 2 Würfel
 - Stift und Papier oder Heft



Zeichne eine Strichliste:

Summe der Würfelaugen	1	2	3	4	5	6	7	8	9	10	11	12

1. Würfel 50-mal mit zwei Würfeln.
Markiere jede Augensumme mit einem Strich in der Strichliste.
 2. Schau dir deine Liste genau an. **Was fällt dir auf?**
Markiere mit Forschermitteln.
- * **Warum ist das so?**



Wahrscheinlichkeiten

- Material:**
- Stift und Papier oder Heft

Zeichne eine Strichliste:

Summe der Würfelaugen	1	2	3	4	5	6	7	8	9	10	11	12

1. Stell dir vor, du hast 50-mal mit zwei Würfeln gewürfelt.
Wie könnte die Strichliste nach den 50 Würfeln aussehen? Zeichne ein Beispiel.
- * **Warum hast du die Striche so verteilt? Begründe.**

