


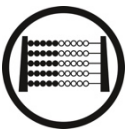
Zahlen einstellen

Stell die Zahl am Rechenrahmen ein.
Beschreibe, was du tust.

Ich schiebe zuerst ganze Reihen (Zehner).
Dann schiebe **ich** rote Perlen (Einer) und noch blaue Perlen (Einer).



1



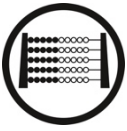
Zahlen einstellen

Ich möchte die Zahl am Rechenrahmen einstellen.
Beschreibe, was ich tun muss.

Du musst zuerst ganze Reihen (Zehner) schieben.
Dann musst **du** rote Perlen (Einer) und noch blaue Perlen (Einer) schieben.




2



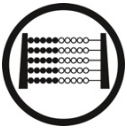
Zahlen einstellen

Ich möchte die Zahl am Rechenrahmen einstellen.
Beschreibe, was ich tun muss.

Du musst zuerst ganze Reihen (Zehner) schieben.
Dann musst **du** rote Perlen (Einer) und noch blaue Perlen (Einer) schieben.



3



Zahlen einstellen

Stell dir den Rechenrahmen im Kopf vor!
Ich möchte die Zahl einstellen.
Beschreibe, was ich tun müsste.

Du müsstest zuerst ganze Reihen (Zehner) schieben.
Dann müsstest **du** rote Perlen (Einer) und noch blaue Perlen (Einer) schieben.



4